

Tæl med 2, 5 eller 10 ad gangen

1 Hop med 2 ad gangen

START/SLUT

© Maria Grove Christensen - www.grovechristensen.dk - Illustrationer: Maria Grove Christensen

2 Tæl med 2 ad gangen

Mange lærere tæller med 2 ad gangen, fordi de skal tælle hvor mange elever der er på skole, eller om alle står klar i køen til busen. Hvor længe du prøv dig i at tælle med 2 ad gangen.

Hvor mange is? _____

Hvor mange fodbold? _____

Hvor mange jordbær? _____

Hvor mange gulerødder? _____

Hvor mange børn? _____

© Maria Grove Christensen - www.grovechristensen.dk - Illustrationer: Mia Thomsen

3 Tæl med 2 ad gangen

Hvor mange i alt? _____

Hvor mange perler? _____

Hvor mange i alt? _____

Hvor mange i alt? _____

Hvor mange perler? _____

Hvor mange perler? _____

© Maria Grove Christensen - www.grovechristensen.dk - Illustrationer: Maria Grove Christensen

4 Hop med 5 ad gangen

START/SLUT

© Maria Grove Christensen - www.grovechristensen.dk - Illustrationer: Maria Grove Christensen

5 Tæl med 5 ad gangen

Hvor mange i alt? _____

Hvor mange i alt? _____

Hvor mange i alt? _____

Hvor mange i alt? _____

Hvor mange perler? _____

Hvor mange i alt? _____

© Maria Grove Christensen - www.grovechristensen.dk - Illustrationer: Mia Thomsen

6 Hop med 10 ad gangen

START/SLUT

© Maria Grove Christensen - www.grovechristensen.dk - Illustrationer: Maria Grove Christensen

7 Tæl med 10 ad gangen

Hvor mange fingre i alt? _____

Hvor mange i alt? _____

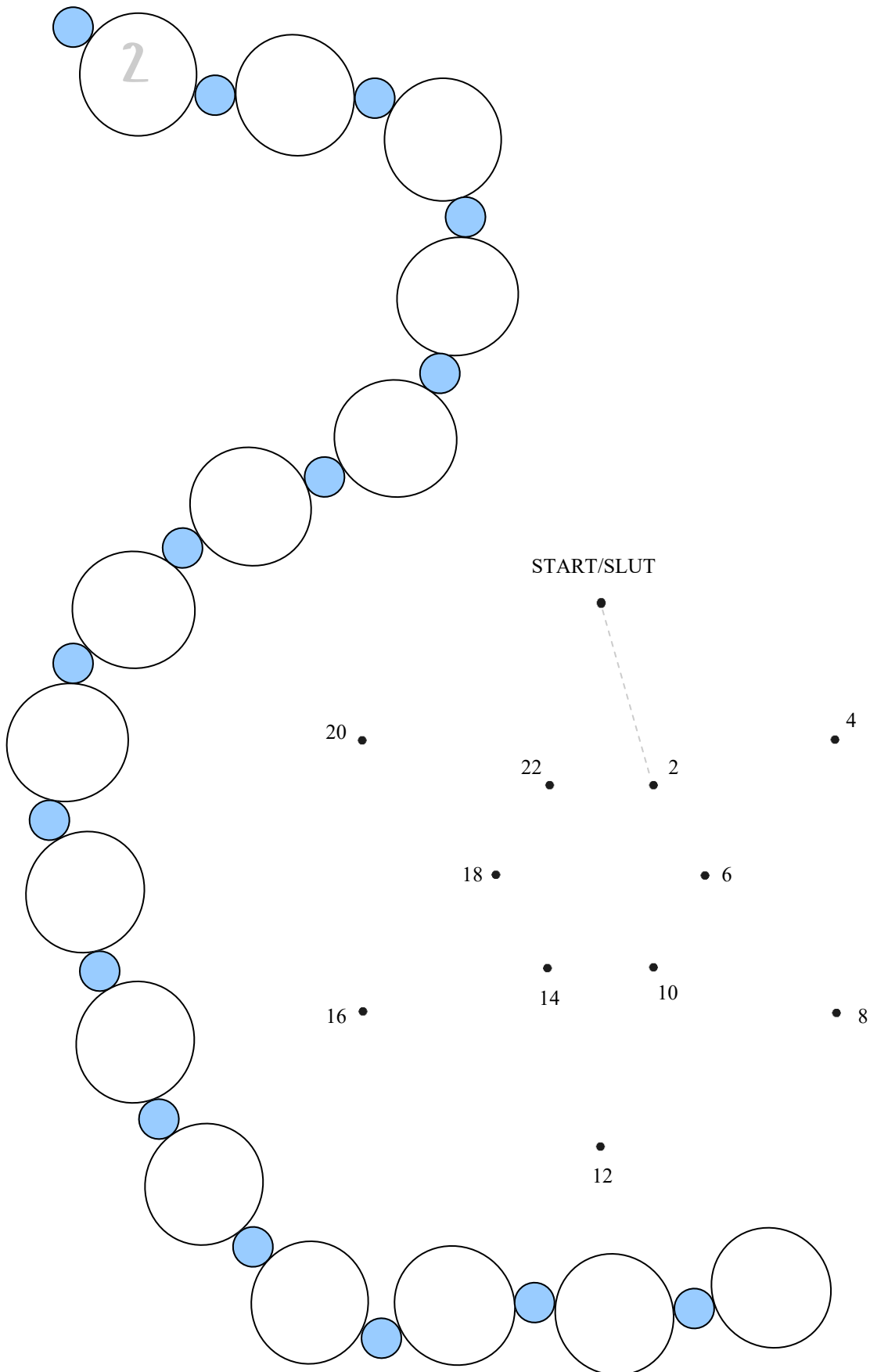
Hvor mange penge i alt? _____

Hvor mange i alt? _____

Hvor mange penge i alt? _____

© Maria Grove Christensen - www.grovechristensen.dk - Illustrationer: Maria Grove Christensen

1 Hop med 2 ad gangen



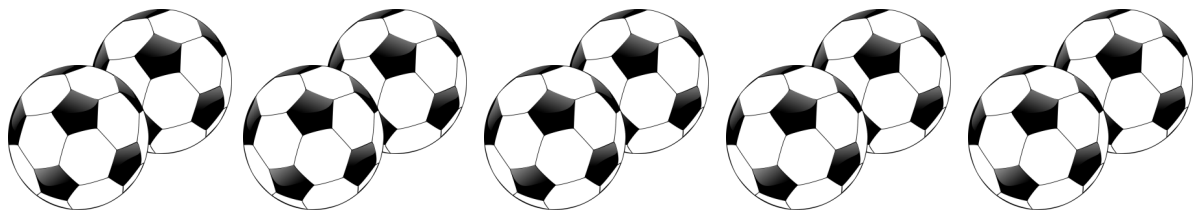
2 Tæl med 2 ad gangen

Mange lærere tæller med 2 ad gangen, hvis de skal tælle hvor mange elever, der er kommet i skole, eller om alle står klar i køen til bussen. Her kan du øve dig i at tælle med 2 ad gangen:




Hvor mange is? _____

Hvor mange jordbær? _____



Hvor mange fodbolde? _____

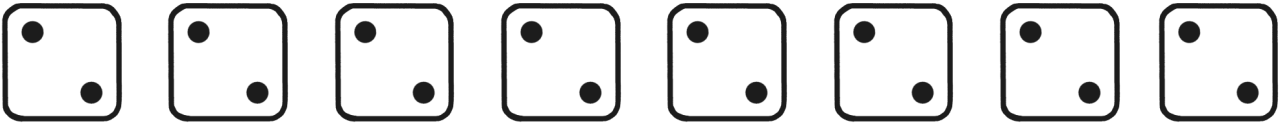


Hvor mange gulerødder? _____



Hvor mange børn? _____

3 Tæl med 2 ad gangen



Hvor mange i alt? _____

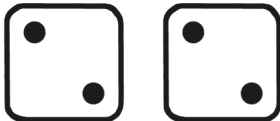


Hvor mange perler? _____

Hvor mange perler? _____




Hvor mange i alt? _____



Hvor mange i alt? _____

Hvor mange perler? _____

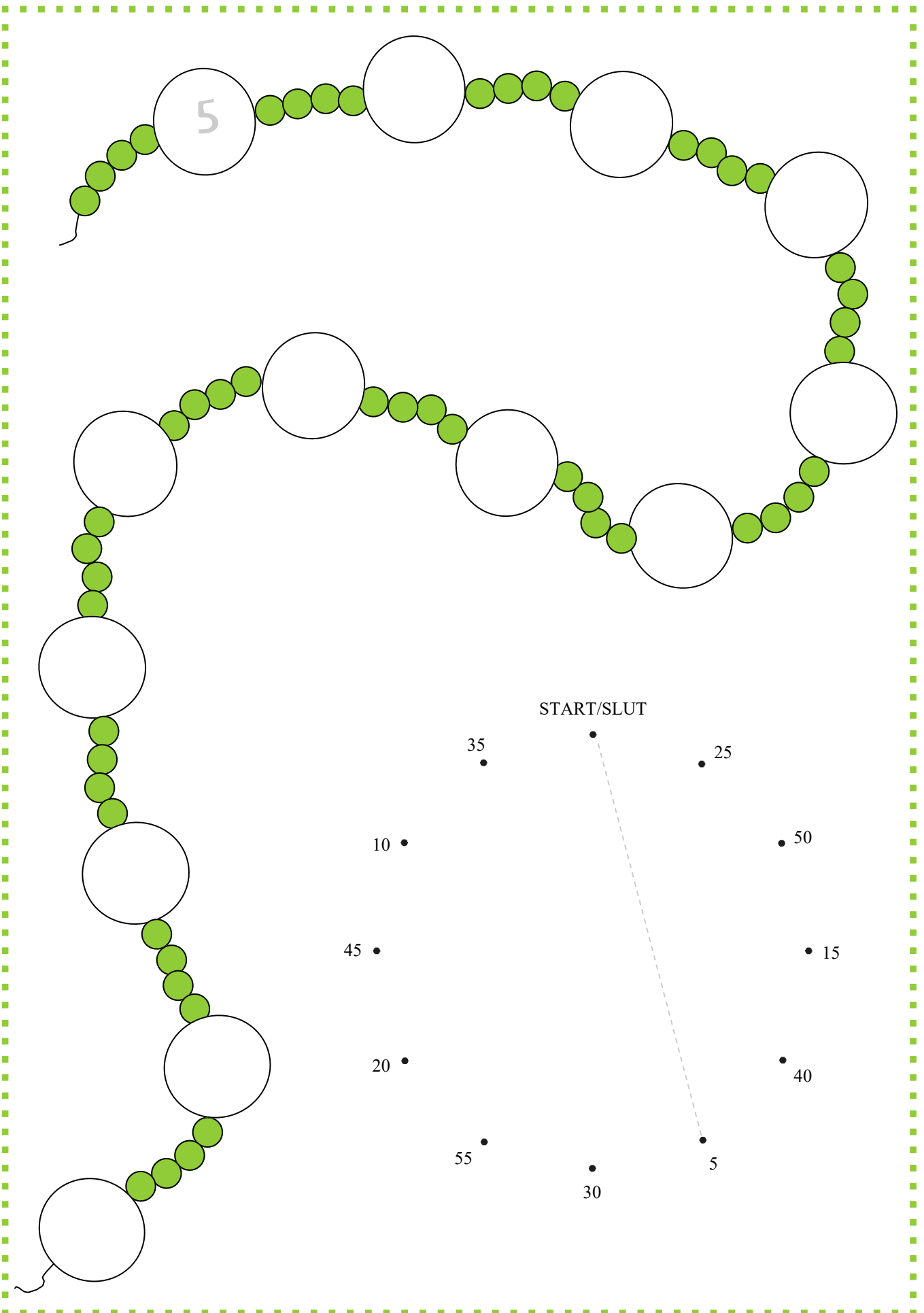


Hvor mange i alt? _____



Hvor mange perler? _____

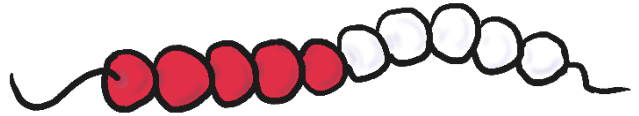
4 Hop med 5 ad gangen



5 Tæl med 5 ad gangen



Hvor mange i alt? _____



Hvor mange i alt? _____

Hvor mange perler? _____




Hvor mange i alt? _____



Hvor mange i alt? _____

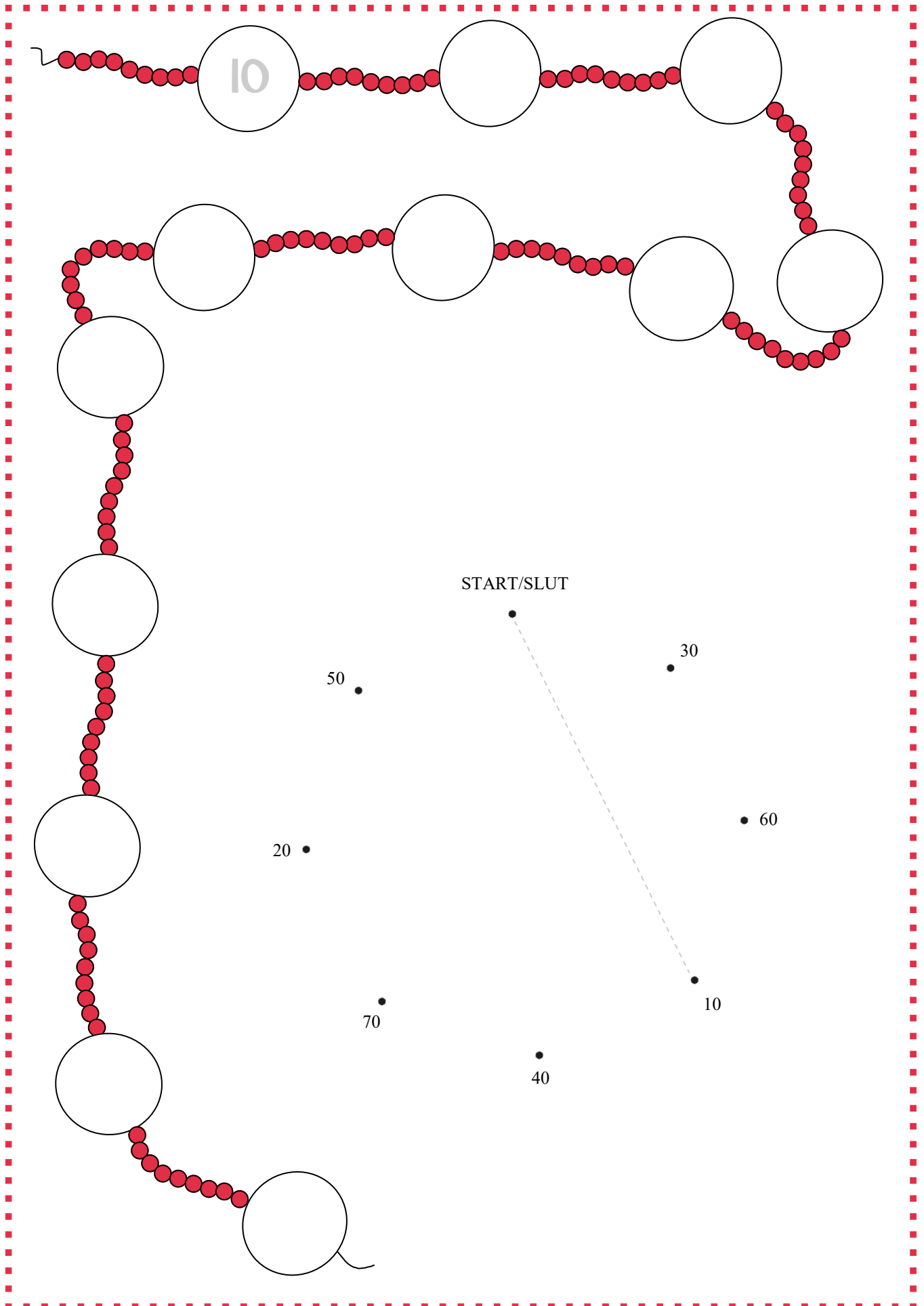


Hvor mange perler? _____



Hvor mange i alt? _____

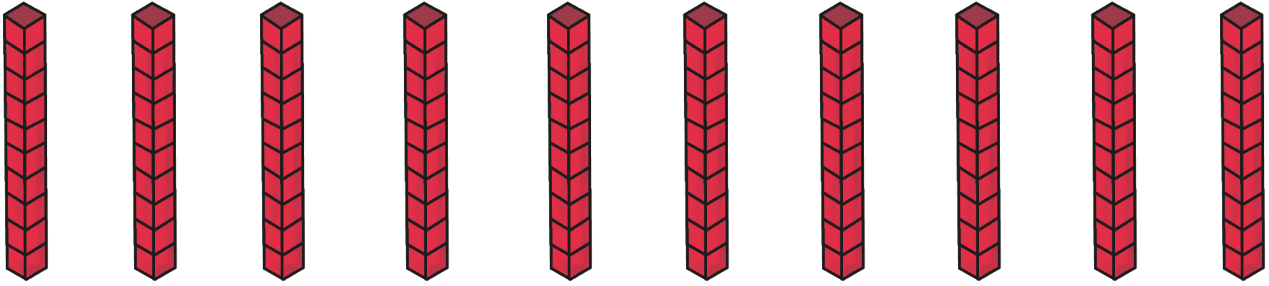
6 Hop med 10 ad gangen




7 Tæl med 10 ad gangen



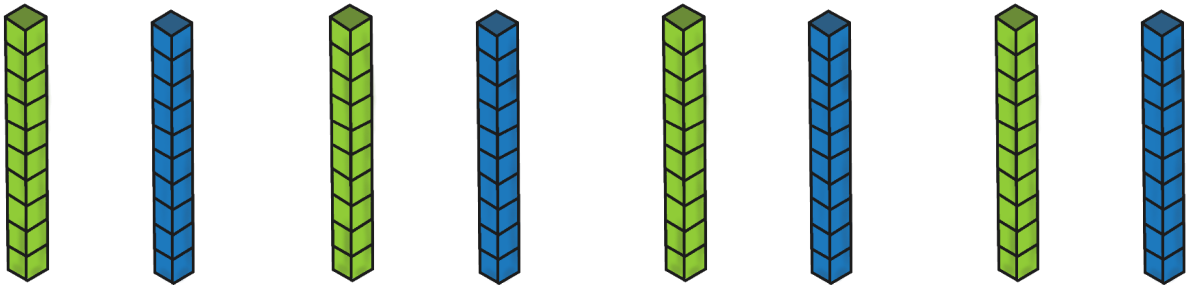
Hvor mange fingre i alt? _____




Hvor mange i alt? _____



Hvor mange penge i alt? _____



Hvor mange i alt? _____



Hvor mange penge i alt? _____